




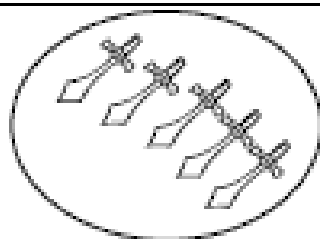
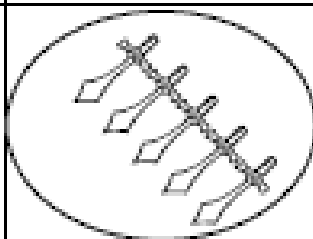


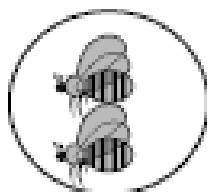

Γράψε τη μαθηματική πρόταση της πρόσθεσης και τη μαθηματική πρόταση του πολλαπλασιασμού.



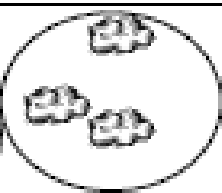















Λύνω τα προβλήματα κάνοντας σχέδιο και γράφοντας μαθηματική πρόταση πρόσθεσης και πολλαπλασιασμού:

- Ο Χαράλαμπος έχει 2 γυάγες. Σε κάθε γυάγα έβαγε 4 ψαράκια. Πόσα είναι όλα τα ψαράκια;

Πρόσθεση: _____ Πολλαπλασιασμός: _____

Απάντηση: Τα ψαράκια είναι ____.



-
- Ο κύριος Αντώνης φύτεψε 3 σειρές με δέντρα. Σε κάθε σειρά έβαγε 2 δέντρα. Πόσα είναι όλα τα δέντρα;

Πρόσθεση: _____ Πολλαπλασιασμός: _____

Απάντηση: Τα δέντρα είναι ____.

